



BANCA D'ITALIA
EUROSISTEMA

Servizio Risorse umane


60 VICE ASSISTENTI
Bando del 20 aprile 2017

TESTO N. 5

IL FASCICOLO SI COMPONE DI DUE SEZIONI

PRIMA SEZIONE: relativa all'accertamento delle conoscenze nelle materie: elementi di diritto; elementi di economia; matematica e complementi di statistica
domande dal n° 1 al n° 60

SECONDA SEZIONE: relativa all'accertamento della conoscenza della lingua inglese
domande dal n° 61 al n° 100



SEZIONE PRIMA

Sezione I - 1


- 1 Tra le seguenti distinzioni, quale non si riferisce alla Costituzione di uno Stato?**
 - A Parlamentare e popolare
 - B Scritta e non scritta
 - C Ottriata (concessa) e votata
 - D Flessibile e rigida

- 2 L'art. 2 della Costituzione italiana:**
 - A impone ai cittadini l'obbligo di concorrere alle spese pubbliche
 - B garantisce l'inviolabilità della libertà personale
 - C garantisce l'inviolabilità del domicilio
 - D richiede l'adempimento dei doveri inderogabili di solidarietà politica, economica e sociale

- 3 Con riferimento a petizione, iniziativa legislativa popolare e referendum, quale tra le seguenti affermazioni è corretta?**
 - A La petizione è un istituto di democrazia diretta, iniziativa legislativa popolare e referendum sono fonti del diritto
 - B Sono tutti istituti di democrazia rappresentativa
 - C Sono tutti istituti di democrazia diretta
 - D Solo i referendum, indipendentemente dall'oggetto, sono fonti del diritto

- 4 I Ministri senza portafoglio:**
 - A prestano giuramento nelle mani del Presidente del Consiglio dei Ministri
 - B sono nominati dal Presidente del Consiglio dei Ministri
 - C non hanno un dicastero alle proprie dipendenze
 - D non fanno parte del Consiglio dei Ministri

- 5 Quale tra le seguenti non è un'Autorità amministrativa indipendente?**
 - A Il Consiglio di Stato
 - B La Commissione nazionale per le società e la borsa - CONSOB
 - C L'Istituto per la vigilanza sulle assicurazioni - IVASS
 - D Il Garante per la protezione dei dati personali




- 6 **Ai sensi della L. 241/90 (Procedimento amministrativo e diritto di accesso), l'organo competente all'adozione del provvedimento finale, ove diverso dal responsabile del procedimento:**
- A non può mai discostarsi dalle risultanze dell'istruttoria condotta dal responsabile del procedimento
 - B può discostarsi dalle risultanze dell'istruttoria condotta dal responsabile del procedimento solo indicandone la motivazione nel provvedimento finale
 - C può discostarsi dalle risultanze dell'istruttoria condotta dal responsabile del procedimento solo se il provvedimento finale, se non emendato, sarebbe annullabile
 - D può discostarsi dalle risultanze dell'istruttoria condotta dal responsabile del procedimento solo se il provvedimento finale, se non emendato, sarebbe nullo
- 7 **Se, per la conclusione del procedimento amministrativo, è previsto dalla legge un controllo preventivo del provvedimento finale, la mancanza del controllo determina necessariamente:**
- A la nullità del provvedimento finale
 - B una sanzione a carico della pubblica amministrazione
 - C l'inefficacia del provvedimento finale
 - D l'inesistenza del provvedimento finale
- 8 **Ai sensi della L. 241/90 (Procedimento amministrativo e diritto di accesso), il provvedimento amministrativo adottato in elusione del giudicato è:**
- A irregolare
 - B annullabile
 - C irricevibile
 - D nullo
- 9 **L'espropriazione per pubblica utilità è un provvedimento ablatorio:**
- A personale
 - B obbligatorio
 - C reale
 - D interdittivo
- 10 **Ai sensi del Trattato sull'Unione europea, assicurare che il diritto dell'Unione europea venga interpretato e applicato allo stesso modo in ogni paese europeo è un compito:**
- A del Parlamento europeo
 - B della Corte di Giustizia europea
 - C del Consiglio dell'Unione
 - D del Consiglio europeo




- 11 Ai sensi del codice civile, le Province e i Comuni sono:**
- A persone giuridiche pubbliche
 - B uffici territoriali del Governo
 - C enti riconosciuti dal Prefetto
 - D enti pubblici economici
- 12 Ai sensi del codice civile, l'emancipazione conferisce al minore la capacità di:**
- A compiere gli atti che non eccedono l'ordinaria amministrazione
 - B compiere gli atti eccedenti l'ordinaria amministrazione
 - C compiere gli atti eccedenti l'ordinaria amministrazione stabiliti nella sentenza che pronuncia l'emancipazione
 - D compiere gli atti che non eccedono l'ordinaria amministrazione stabiliti nella sentenza che pronuncia l'emancipazione
- 13 Ai sensi del codice civile, il contratto è nullo quando:**
- A manca l'oggetto
 - B il consenso è viziato da dolo
 - C il consenso è viziato da errore
 - D manca la forma prescritta dalla legge ad probationem
- 14 Ai sensi del codice civile, il debitore può liberarsi eseguendo una prestazione diversa da quella dovuta:**
- A solo se la prestazione diversa è di valore uguale o maggiore
 - B solo se il creditore lo consente
 - C in nessun caso
 - D solo se la prestazione diversa è di valore maggiore
- 15 Ai sensi del codice civile, chi, senza giusta causa, si è arricchito a danno di un'altra persona è tenuto, nei limiti dell'arricchimento:**
- A a risarcire in forma specifica il danno a quest'ultima cagionato
 - B a risarcire per equivalente il danno a quest'ultima cagionato
 - C a rimborsare a quest'ultima le spese sostenute
 - D a indennizzare quest'ultima della correlativa diminuzione patrimoniale




- 16 Ai sensi del codice civile, l'azione generale di rescissione per lesione:**
- A non è ammissibile se la lesione non eccede la metà del valore che la prestazione eseguita o promessa dalla parte danneggiata aveva al tempo del contratto
 - B è ammissibile se la lesione non eccede la metà del valore che la prestazione eseguita o promessa dalla parte danneggiata aveva al tempo del contratto
 - C non è ammissibile se la lesione eccede la metà del valore che la prestazione eseguita o promessa dalla parte danneggiata ha al tempo in cui la domanda è proposta
 - D è ammissibile se la lesione eccede la metà del valore che la prestazione eseguita o promessa dalla parte danneggiata ha al tempo in cui la domanda è proposta, ove si tratti di contratti aleatori
- 17 Ai sensi del codice civile, la condizione sospensiva impossibile apposta a un contratto:**
- A rende nullo il contratto
 - B rende annullabile il contratto
 - C si ha come non apposta
 - D si considera avverata
- 18 Ai sensi del codice civile, il complesso dei beni organizzati dall'imprenditore per l'esercizio dell'impresa costituisce:**
- A la società
 - B l'avviamento
 - C l'azienda
 - D la ditta
- 19 Ai sensi del codice civile, l'atto costitutivo della società in accomandita semplice deve indicare:**
- A i soci accomandatari e i soci accomandanti
 - B i soli soci accomandatari
 - C i soci accomandanti e i soli soci accomandatari a cui spetta l'amministrazione della società
 - D i soci accomandatari e i soli soci accomandanti a cui spetta l'amministrazione della società
- 20 Ai sensi del codice civile, nella società per azioni, nel caso di pegno sulle azioni, il diritto di voto spetta, salvo convenzione contraria:**
- A al creditore pignoratizio
 - B al socio
 - C sia al socio sia al creditore pignoratizio
 - D al creditore pignoratizio in caso di mancato esercizio da parte del socio



- 21 **Se aumentando tutti i fattori produttivi la produzione aumenta meno che proporzionalmente si è in presenza di:**
- A rendimenti di scala crescenti
 - B economie di scala decrescenti
 - C economie di scala costanti
 - D economie di scala anomale
- 22 **In un grafico cartesiano (quantità sulle ascisse e prezzo sulle ordinate) lo spostamento verso destra e verso l'alto della curva di domanda del bene A determina:**
- A a parità di prezzo un aumento della quantità domandata del bene A
 - B a parità di prezzo una riduzione della quantità domandata del bene A
 - C a parità di quantità domandata una diminuzione del prezzo del bene A
 - D nessuna variazione del prezzo e della quantità domandata del bene A
- 23 **In un modello economico neoclassico, nel lungo periodo, la piena occupazione è garantita da:**
- A flessibilità dei prezzi e dei salari
 - B innovazione tecnologica
 - C politica monetaria espansiva
 - D espansione della spesa pubblica
- 24 **Il ricavo marginale di un monopolista:**
- A decresce progressivamente
 - B rimane costante
 - C cresce progressivamente
 - D cresce e poi rimane costante
- 25 **Secondo la teoria del reddito permanente di Milton Friedman:**
- A la domanda individuale di consumi non dipende dal reddito assoluto, ma dal reddito relativo
 - B l'individuo basa le sue scelte sulla componente fissa del reddito e non su quella variabile
 - C la propensione al consumo degli individui non dipende solo dal reddito corrente, ma anche da quello previsto in futuro
 - D la propensione al consumo dell'individuo dipende dal suo reddito al netto dei sussidi sociali
- 26 **Dati un reddito di 200 miliardi di euro e i consumi fissi (che non dipendono dal reddito) pari a 20 miliardi di euro, sapendo che la propensione marginale al risparmio è pari a 0,2, a quanti miliardi di euro ammontano i consumi totali?**
- A 180
 - B 160
 - C 140
 - D 60



- 27 **Quale tra i seguenti è un effetto della deflazione?**
 A L'aumento dei consumi
 B La redistribuzione arbitraria della ricchezza a vantaggio dei debitori e a danno dei creditori
 C La redistribuzione arbitraria della ricchezza a vantaggio dei creditori e a danno dei debitori
 D L'aumento del cosiddetto "costo da consumo delle suole delle scarpe" (shoe-leather cost)
- 28 **Nell'anno t il PIL nominale è pari a 110 miliardi; l'anno successivo (t+1) il PIL nominale cresce del 10% e il deflatore è pari a 1,2. Nell'anno t+1 il PIL reale, ai prezzi dell'anno t, è uguale a circa:**
 A 132 miliardi
 B 145 miliardi
 C 101 miliardi
 D 121 miliardi
- 29 **Su un reddito di 3.000 euro viene applicata un'aliquota unica del 15%; risulterà più vantaggioso per il contribuente usufruire di una detrazione o di una deduzione entrambe pari a 400 euro?**
 A Sarà più vantaggiosa la deduzione
 B Sarà più vantaggiosa la detrazione
 C Saranno vantaggiose nella stessa misura
 D Dipenderà dalle preferenze nei consumi del contribuente
- 30 **Se il contribuente percusso coincide con il contribuente inciso:**
 A non c'è traslazione dell'imposta
 B c'è traslazione dell'imposta
 C c'è solo traslazione parziale dell'imposta
 D c'è elisione dell'imposta
- 31 **Nel modello della catena del valore la funzione aziendale che si occupa di logistica è inclusa tra quelle:**
 A di supporto
 B primarie
 C a budget flessibile
 D a budget scorrevole
- 32 **La scrittura di rettifica di un ricavo che ha già avuto manifestazione finanziaria, ma non è di competenza dell'esercizio comporta la rilevazione di:**
 A un risconto attivo
 B un risconto passivo
 C un rateo attivo
 D un rateo passivo



33 Quale delle seguenti affermazioni non è corretta?

- A Le micro-imprese sono esonerate dalla redazione della nota integrativa se forniscono in calce allo stato patrimoniale le informazioni a tal fine richieste dall'articolo 2435 ter del codice civile
- B Ai sensi dell'articolo 2423 del codice civile il bilancio d'esercizio è costituito da stato patrimoniale, conto economico e nota integrativa
- C Le società che redigono il bilancio in forma abbreviata sono esonerate dalla redazione della relazione sulla gestione se forniscono in nota integrativa le informazioni a tal fine richieste dall'articolo 2435 bis del codice civile
- D Ai sensi dell'articolo 2429 del codice civile il bilancio deve essere comunicato dagli amministratori al collegio sindacale e al soggetto incaricato della revisione legale almeno trenta giorni prima del termine fissato per l'assemblea che deve discuterlo

34 Nell'ambito delle scritture di assestamento la società Alfa deve rilevare un rateo attivo su un fitto attivo e una svalutazione su crediti; per effetto delle conseguenti registrazioni contabili secondo il metodo della partita doppia:


- A il conto "svalutazione su crediti" sarà accreditato; i conti "fondo svalutazione crediti", "fitti attivi" e "ratei attivi su fitti" saranno addebitati
- B i conti "svalutazione su crediti" e "ratei attivi su fitti" saranno accreditati; i conti "fondo svalutazione crediti" e "fitti attivi" saranno addebitati
- C i conti "svalutazione su crediti" e "ratei attivi su fitti" saranno addebitati; i conti "fondo svalutazione crediti" e "fitti attivi" saranno accreditati
- D i conti "svalutazione su crediti" e "fondo svalutazione crediti" saranno addebitati; i conti "ratei attivi su fitti" e "fitti attivi" saranno accreditati

35 Al 31/12/2016 il conto economico riclassificato "al valore aggiunto" di un'impresa commerciale registra un reddito operativo (EBIT) pari a 1.000; dati gli ammortamenti pari a 100 e gli oneri finanziari pari a 200, il risultato economico al lordo delle imposte risulta pari a:

- A 700
- B 1.200
- C 900
- D 800

36 Nella configurazione di "Conto economico a ricavi e costo del venduto":

- A i costi riferiti alla distribuzione dei beni sono inclusi nel Costo del venduto
- B i costi sono classificati per natura
- C è possibile individuare quale risultato intermedio il Valore aggiunto
- D i costi sono classificati per destinazione



- 37 In sede di analisi degli scostamenti dei costi in un'azienda mono-prodotto, lo scostamento imputabile alla variazione nei prezzi dei fattori produttivi si misura:**
- A moltiplicando la differenza tra i prezzi effettivi (P_e) e i prezzi standard (P_s) per le quantità standard dei fattori impiegati (Q_s); in formula $Q_s \cdot (P_e - P_s)$
 - B moltiplicando la differenza tra le quantità effettive (Q_e) e le quantità standard (Q_s) dei fattori impiegati per i prezzi standard (P_s); in formula $P_s \cdot (Q_e - Q_s)$
 - C moltiplicando la differenza tra i prezzi effettivi (P_e) e i prezzi standard (P_s) per le quantità effettive dei fattori impiegati (Q_e); in formula $Q_e \cdot (P_e - P_s)$
 - D moltiplicando la differenza tra le quantità effettive (Q_e) e le quantità standard (Q_s) dei fattori impiegati per i prezzi effettivi (P_e); in formula $P_e \cdot (Q_e - Q_s)$
- 38 Nell'ambito della contabilità gestionale, il metodo ABC (activity based costing) è utilizzato per:**
- A imputare i costi delle materie prime ai prodotti cui si riferiscono
 - B individuare le diverse tipologie dei centri di costo (reali o di comodo)
 - C imputare quote di costi indiretti a un oggetto di costo
 - D analizzare gli scostamenti tra costi fissi e costi variabili
- 39 Un certificato di deposito rappresenta per la banca emittente:**
- A un'operazione di raccolta di capitale proprio
 - B un'operazione di impiego a breve termine
 - C un'operazione di impiego a lungo termine
 - D un'operazione di raccolta di capitale di debito
- 40 Al 31 dicembre 2018 un conto corrente presenta saldo contabile e saldo liquido entrambi a credito e pari a 2.000 e un saldo disponibile a credito pari a 1.000. Tra le operazioni già contabilizzate risulta l'accredito, salvo buon fine, di un assegno bancario di importo pari a 1.000. Con riferimento a quest'ultima operazione, quale delle seguenti affermazioni è corretta?**
- A Al 31 dicembre 2018 sono trascorsi i giorni di disponibilità, ma non quelli di valuta
 - B Al 31 dicembre 2018 sono trascorsi i giorni di valuta, ma non quelli di disponibilità
 - C Al 31 dicembre 2018 sono trascorsi sia i giorni di disponibilità sia quelli di valuta
 - D Al 31 dicembre 2018 i giorni di valuta sono maggiori dei giorni di disponibilità



- 41 Dati due numeri reali positivi a e b con $a > b$, individuare con quale delle seguenti espressioni si può rappresentare la radice quadrata del rapporto tra la loro somma al quadrato e la differenza dei loro cubi:

A $\sqrt{\frac{2a+2b}{(a-b)(a^2+b^2+ab)}}$

B $\sqrt{\frac{a^2+b^2+2ab}{(a-b)(a^2+b^2+ab)}}$

C $\frac{\sqrt{(a+b)^2}}{(a^3-b^3)}$

D $\sqrt{\frac{a^2+b^2+ab}{(a-b)(a^2+b^2+2ab)}}$

- 42 Per quali valori di x reali positivi è soddisfatta la disuguaglianza $-3x^2 > -3x$?

A $0 < x < \frac{1}{3}$

B $x < 0; x > 1$

C $0 < x < 1$

D $x > 1$

- 43 Quale curva è individuata dal “luogo geometrico dei punti del piano per i quali la somma delle distanze da due punti fissi (fuochi) è costante”?

A Iperbole

B Parabola

C Ellisse

D Circonferenza

- 44 Si individuino i parametri a, b dell'iperbole $\frac{x^2}{a} - \frac{y^2}{b} = 1$ tali che ad essa appartengano i punti $(2; 5), (1; 0)$:

A $a = 2; b = 1$


B $a = 1; b = \frac{25}{3}$

C $a = 1; b = 1$

D $a = 1; b = \frac{3}{25}$



- 45 Si individui il vertice della parabola $y = -2x^2 + x$:
- A $(\frac{1}{4}; 0)$
B $(\frac{1}{4}; \frac{1}{8})$
C $(-4; -36)$
D $(\frac{1}{2}; 0)$
- 46 Data la successione $\{\frac{2^n}{n^2}\}$ se ne indichi il limite per $n \rightarrow +\infty$:
- A 2
B $+\infty$
C 1
D 0
- 47 Data la funzione $y = e^{2x}$ si indichi l'equazione della retta tangente nel punto $(0; 1)$:
- A $y = 1 + 2x$
B $y = 1 + x$
C $y = 2x$
D $y = e + x$
- 48 Si indichi il valore assunto dall'integrale $\int_0^1 \frac{1}{\sqrt{x}} dx$:
- A $\frac{1}{2}$
B 1
C 2
D 0
- 49 Sia N l'insieme dei numeri interi positivi. Dati due insiemi $A = \{x \mid x = 2n, n \in N\}$ e $B = \{x \mid x = 2n-1, n \in N\}$, si determini l'unione di A e B:
- A insieme vuoto
B $\{1, 2\}$
C $\{0\}$
D N



50 Si indichi l'angolo θ , nell'intervallo $[0, \pi]$, che fa assumere alla funzione $\tan(\theta)$ il valore 1:

- A $\frac{\pi}{2}$
- B 0
- C π
- D $\frac{\pi}{4}$

51 Quale tra le seguenti relazioni tra i diversi tipi di media è corretta?

- A media aritmetica < media geometrica < media armonica < media quadratica
- B media armonica < media aritmetica < media geometrica < media quadratica
- C media armonica < media geometrica < media aritmetica < media quadratica
- D media quadratica < media geometrica < media aritmetica < media armonica

52 Dopo una successione di tiri a freccette i punti realizzati sono stati i seguenti:


Punti realizzati	Numero di tiri
20	3
15	4
10	4
5	4

Calcolare il punteggio medio:


- A 10
- B 20
- C 12
- D 5

53 Il rapporto tra la deviazione standard e la media aritmetica di una serie di valori è detto:


- A campo di variazione
- B varianza
- C range di variazione
- D coefficiente di variazione



- 54 **Obiettivo di una ricerca è quello di misurare l'interdipendenza tra il colore degli occhi ed il colore dei capelli degli abitanti di un paese di montagna. Dopo avere disposto le osservazioni in una tabella a doppia entrata, si può ricorrere al calcolo:**
- A di un indice di contingenza
 - B di un indice di correlazione
 - C della covarianza tra le osservazioni
 - D di un indice di regressione
- 55 **In un Comune il rapporto tra la spesa sostenuta per manifestazioni culturali e quella sostenuta per manifestazioni sportive è pari a 0,7. Che tipo di rapporto statistico si è calcolato?**
- A Un rapporto statistico di derivazione
 - B Un rapporto statistico di densità
 - C Un rapporto statistico di coesistenza
 - D Un rapporto statistico di composizione
- 56 **Sia X una serie di valori x_1, x_2, \dots, x_n con varianza pari a $\text{Var}(X)$; valutare la seguente affermazione:**
- “moltiplicando ciascun valore della serie per una costante c arbitraria non nulla, la varianza diventa $\text{Var}(X)+c^2$ ”**
- A l'affermazione è falsa
 - B l'affermazione è sempre vera
 - C per poter valutare l'affermazione occorre conoscere il valore della costante c
 - D per poter valutare l'affermazione occorre conoscere il valore della varianza $\text{Var}(X)$
- 57 **Lanciando contemporaneamente 2 dadi regolari a 6 facce, numerate da 1 a 6, quale è la probabilità che la somma dei due dadi sia inferiore a 4?**
- A 1/6
 - B 1/12
 - C 1/18
 - D 1/3
- 58 **Un sacchetto contiene 25 palline numerate da 1 a 25. Quale è la probabilità che estraendo una pallina esca un numero divisibile per 3, sapendo che il numero estratto è dispari?**
- A 4/25
 - B 5/13
 - C 4/13
 - D 8/25



- 59 I cinque giudici di una gara di ballo devono sedersi allo stesso lato di un tavolo al bordo della pista. Se il Presidente della giuria siede sempre al centro, in quanti possibili modi possono sedersi i restanti giudici?
- A 24
B 25
C 20
D 16
- 60 Quanti numeri di 3 cifre diverse si possono comporre con gli elementi dell'insieme $A=\{2, 4, 6, 8, 9\}$?
- A 60
B 10
C 125
D 20



61. Complete the sentence with the correct answer.

She'll come with us _____ it doesn't rain tomorrow.

- A. as soon as
- B. as long as
- C. unless
- D. conditionally

62. Complete the sentence with the correct answer.

I _____ English for five years by the time I left school.

- A. am studying
- B. had been studying
- C. was studying
- D. did study

63. Complete the sentence with the correct answer.

X: "If they offer you the job, _____?"

Y: "I'm not sure. It depends on how much they're offering."

- A. you take it
- B. do you take it
- C. you taking it
- D. will you take it

64. Complete the sentence with the correct answer.

The stadium is _____; we should take the bus.

- A. too long
- B. too far away
- C. too much distant
- D. too many distance

**65. First read the passage; then complete the sentence with the correct answer.**

Imagining cities of the future was a favourite 20th-century sport. Film directors, novelists, and architects all practised it, but now that city of the future has become the city of the present, and it turns out that a few things were overlooked. If the metropolis of the 21st century does indeed have some large shiny blank buildings, as had been projected, it also includes such things as a theme park in the 15-year-old city of Shenzhen, China, where the Sydney Opera House, the Grand Canyon, and the Eiffel Tower, and other great monuments of the world are reproduced at reduced scale.

The future-gazers failed to spot that the industry that is shaping the city in the 21st century is entertainment. Once the urban role models were the skyscrapers of Manhattan. Now, it is Las Vegas, with its recreations of Egypt, medieval England, Venice, Paris, and ancient Rome.

The people who imagined the architecture of cities of the 21st century:

- A. thought they would be full of reproductions of other cities.
- B. thought they would be something like the 15-year-old Chinese city of Shenzhen.
- C. had in mind models of medieval cities.
- D. based their ideas on the tall buildings that existed in New York.

66. Complete the sentence with the correct answer.

My job _____ dealing with computer software.

- A. means in
- B. occupies with
- C. consists of
- D. exists in

67. Complete the sentence with the correct answer.

I'm fascinated _____ this kind of music; I could listen to it all day.

- A. on
- B. by
- C. from
- D. to


68. First read the email; then complete the sentence with the correct answer.

TO: Trevor
FROM: Barbara

Jim's forgotten his key. Therefore, I'll have to go back to the office and get mine. So can we meet about half an hour later than planned? Jim's really sorry and has promised to pay for our drinks!

Barbara wants Trevor to:

- A. change an arrangement they have made.
- B. remind Jim about his key again.
- C. make different plans for the office.
- D. meet Jim before they have drinks.



69. First read the notice; then choose the correct sentence.

The concert is free for all those under 18. Students will get a discount on production of a valid ID card.

- A. Both students and those under 18 can get a discount at the concert.
- B. Students have to be under 18 to get a discount.
- C. Students ought to bring a valid ID card if they want to pay less.
- D. Students are allowed to attend the concert for free if they have the correct ID.

70. First read the passage; then answer the question.

Jonny Jeals is a magician who works with children with learning difficulties. He says that children are normally more excited by magic tricks than adults, who are often just interested in how the tricks are done. He says that children who have problems concentrating actually start to pay more attention as soon as he starts his show. His favourite moment so far was when a normally distracted boy called Marcus managed to discover where he had hidden his rabbit long before any of the other children had realised.

What does Jonny Jeals say about his magic show?

- A. He focuses on the reaction of the children.
- B. Children with learning difficulties need to see a special show.
- C. Adults don't seem to enjoy his magic show.
- D. Marcus was less interested in the show than the other children.

71. Complete the sentence with the correct answer.

By the time the boss comes back, _____ the job he asked me to do.

- A. I'm going to finish
- B. I will finish
- C. I'm next to finishing
- D. I will have finished

72. Complete the sentence with the correct answer.

If you move to the UK, you'll have to _____ driving on the left, not the right.

- A. learn to use
- B. be able to
- C. get used to
- D. be use to

73. Complete the sentence with the correct answer.


Don't worry! _____ your plane is late, we won't start without you.

- A. Even so
- B. Even if
- C. Eventually if
- D. Whereas

74. Complete the sentence with the correct answer.

If the government had repaired the road, the accident _____.

- A. wouldn't have happened
- B. wouldn't occur
- C. wouldn't have succeeded
- D. wouldn't take place



75. Complete the sentence with the correct answer.

The report, which _____ up to standard, was flatly rejected.

- A. hasn't done
- B. hasn't been done
- C. hasn't been doing
- D. hadn't been done

76. Complete the sentence with the correct answer.

I'm excited _____ the new players our team have bought.

- A. around
- B. because
- C. about
- D. from

77. Complete the sentence with the correct answer.

The company plans to _____ production of the new car.


- A. rise
- B. boom
- C. boost
- D. major

78. First read the passage; then answer the question.

How many of us have heard that eating carrots is good for your eyesight? Yet comparatively few people know that this particular piece of 'news' was not a piece of folk wisdom handed down over the generations, but an invention of British intelligence during World War Two. The British had just discovered radar, which made British bombing raids in Germany more effective. In order to conceal this military secret for as long as possible from the Germans, they came up with an apparently scientific explanation that was then transmitted over the radio so that the Germans themselves could hear it. According to the news, scientists had indeed discovered that carrots were good for helping you see in the dark, and for this reason RAF pilots were eating them every day to improve their night vision so they could bomb the enemy more effectively. It took the Germans a long time to realise they had been fooled, and by then the outcome of the war was no longer in doubt.

What is the author trying to emphasise in the text?

- A. British intelligence took advantage of a popular belief to help win the war.
- B. The pilots ate carrots on TV to help convince the Germans about their effectiveness.
- C. If the Germans had realised the link between carrots and eyesight, the war might have ended differently.
- D. The scientific discovery regarding carrots was not a discovery at all.



79. First read the passage; then complete the sentence with the correct answer.

Not a day goes by without a politician praising people who install some kind of renewable energy source in their homes, gardens, or on the roofs of their houses. In fact, in some European countries, renewable energy sources, as opposed to oil, coal, and gas, now account for 60 percent, if not more, of national energy production.

But are these new sources of energy really as green as they are painted to be? Not all of them, according to the European Commission. It examined the impact on the environment of the installation of the most common technologies, such as solar panels, wind turbines, and even hydroelectric plants. The conclusions make for depressing reading. Although they are the most frequently installed technology, solar panels have a relatively short working life, use up rare elements, and are extremely difficult to break down and recycle. We would be better off, it seems, installing a modern version of the much older windmill. After all, the thousands you can see in Holland seem to have stood the test of time.

In the writer's opinion:

- A. some renewable technologies are at least 60 percent greener than traditional ones.
- B. without solar panels it would be difficult to achieve a high percentage of renewable energy.
- C. a relatively ancient technology is at the top of the list for 'greenness'.
- D. people have installed solar panels in the mistaken belief that they are more effective.

80. First read the passage; then complete the sentence with the correct answer.

Does earning a good salary equate with happiness? Not always so, it seems. Following a survey of 25 different professions, it turned out that those in typically high-paying professions, such as lawyers and bankers, often had a number of stress-related problems, such as difficulty sleeping, mental exhaustion, and generally feeling unable to cope. This was in stark contrast to those in some blue collar professions, such as plumbers and florists. While hairdressers and those in vocational professions, such as care assistants, were much more satisfied with their jobs than civil servants, teachers seemed to be among those with the worst of both worlds, suffering from stress and being badly paid at the same time.


From the article it appears that:

- A. a high salary and personal happiness may not go hand in hand.
- B. teachers are unlikely to be happy because of the pressure of their vocation.
- C. personal happiness is indirectly linked to job status.
- D. higher pay obviously leads to higher stress levels.

81. Complete the sentence with the correct answer.

This is the first time I _____ Japanese food, and I really like it, I have to say.

- A. eat
- B. have been eating
- C. am eating
- D. have eaten



82. Complete the sentence with the correct answer.

When my friends were over from Madrid in August, I _____ them on trips around the local area all the time.

- A. took
- B. have taken
- C. take
- D. have been taking

83. Complete the sentence with the correct answer.

So severe _____ the earthquake that people ran out into the streets.

- A. passed
- B. hit
- C. went
- D. was

84. Complete the sentence with the correct answer.

He has _____ to be offered a place at the university even though he passed the entrance exam.

- A. since
- B. but
- C. yet
- D. already

85. Complete the sentence with the correct answer.


Because our city relies so much on the people coming from abroad for its income, I think more money should be spent on restoring all its important _____ attractions.

- A. tour
- B. tourist
- C. touristic
- D. tourist's

86. Complete the sentence with the correct answer.

To _____ all the skills, you need a long apprenticeship.

- A. earn
- B. commend
- C. master
- D. make



87. Complete the sentence with the correct answer.

If you don't _____ the law, you will have to face the consequences.


- A. keep on
- B. abide by
- C. respect with
- D. follow after

88. First read the passage; then complete the sentence with the correct answer.

Natural sunscreens are mainly mineral blockers, which means that as the strength goes up the cream gets quite white because they are using small particles to deflect the sun's rays. People with sensitive skin are advised to choose a cream with a higher concentration of minerals. One of the many benefits of using a cream like this is that you don't have to wait for it to start working once it is applied.

Natural sunscreens:

- A. work best at higher concentrations if the skin is susceptible to burning.
- B. don't block the sun from burning the skin quickly.
- C. make the skin get quite sensitive.
- D. block the minerals in the skin.

**89. First read the passage; then complete the sentence with the correct answer.**

Perhaps it is time to talk about eyewitnesses: the people who are present when a crime is committed, and who form the backbone of evidence for a criminal conviction in the Anglo-Saxon legal system. The idea that an eyewitness was or is the most important source of information at the scene of a crime has a long history, but only recently have experts begun to question the reliability of an eyewitness account. The problem is that an eyewitness does not really photograph the perpetrator of a crime in isolation, but based on his or her previous experience of encountering people. This can lead to an unconscious overlap with previous experience, where the perpetrators of past events become associated with a potential figure in the present. Thus, the memory persuades the witness that the previous figure and the new image are one and the same, resulting in an erroneous association.

The writer wants to emphasise the danger of relying on eyewitness accounts of crimes because:

- A. eyewitnesses often come from different backgrounds to the perpetrators of crimes.
- B. eyewitnesses have an inbuilt prejudice towards certain ethnic groups.
- C. eyewitnesses are unaware that their memories contain inputs from previous experience.
- D. eyewitnesses lack experience in crime detection.

90. First read the passage; then answer the question.

Tel Aviv or "Hill of Spring" in English, was the first city created in what was to be the future state of Israel. The foundation stone was laid in 1909 on an area of dunes facing west onto the Mediterranean Sea. Its first architects, however, had little or no experience of how to build a city facing the sea and did not want to copy the style of nearby Jaffa, which had a clearly Arab or

Ottoman style. Over the following decades, they chose to build often following the Bauhaus style that was fashionable in 1920s Germany or the lines of Le Corbusier. Because of the pressure of how to settle a growing population, high-rise buildings were constructed on the sea front. This resulted in a blocking of the sea breezes that would otherwise have provided the rest of the city with a pleasurable relief from the summer heat. The problem remains to the present day and is especially severe in the humid summer months.

Which of the following does the writer point out about the building of Tel Aviv?

- A. The contrast between the city and neighbouring Jaffa.
- B. The climate in the choice of architectural styles.
- C. The value of the wide experience of the architects.
- D. The way in which the architects solved the problem of the humid summer conditions.

91. Complete the sentence with the correct answer.

The sea should always be respected, _____ tourist demands.

- A. despite of
- B. although
- C. nevertheless
- D. in spite of

92. Complete the sentence with the correct answer.

Surprisingly enough for a person her age, she has decided she wants to become _____.

- A. aeronautic engineer
- B. the aeronautic engineer
- C. an aeronautic engineer
- D. a aeronautic engineer

93. Complete the sentence with the correct answer.


People will always associate _____ Holland.

- A. windmills and tulips to the
- B. the windmills and tulips to
- C. windmills and tulips with the
- D. windmills and tulips with

94. Complete the sentence with the correct answer.

That was a very bad idea taking that short cut. Now we're lost. We _____ stayed on the main road!

- A. shouldn't have
- B. ought to have
- C. must have
- D. may have



95. Complete the sentence with the correct answer.

Following the rise in the consumer price index, the government surprisingly kept interest rates _____.

- A. equal
- B. steady
- C. invarious
- D. likewise

96. Complete the sentence with the correct answer.

The Japanese economy is showing signs of _____, with exports well ahead of last year.

- A. picking up
- B. rising up
- C. raising up
- D. growing up

97. Complete the sentence with the correct answer.

If I hadn't studied to be a teacher, I _____ here today.

- A. didn't be
- B. shouldn't be
- C. wasn't been
- D. wouldn't be

98. Complete the sentence with the correct answer.


The other team were undeniably better. In fact, we won the game completely _____.

- A. casually
- B. by chance
- C. by fortune
- D. unwillingly

99. Complete the sentence with the correct answer.

You know Mathew _____ a new mobile phone for his birthday, he's only ten!


- A. has had given
- B. has given
- C. has been given
- D. is given



100. Complete the sentence with the correct answer.

What I wanted to tell you is that, unfortunately, John _____ the lowest mark.

- A. fulfilled
- B. arrived
- C. achieved
- D. subjected



Testo 5 Sezione I

domanda	risposta
1	A
2	D
3	C
4	C
5	A
6	B
7	C
8	D
9	C
10	B
11	A
12	A
13	A
14	B
15	D
16	A
17	A
18	C
19	A
20	A
21	B
22	A
23	A
24	A
25	C
26	A
27	C
28	C
29	B
30	A
31	B
32	B
33	B
34	C
35	D
36	D
37	C
38	C
39	D
40	B

Handwritten notes:
A circle with the number 20 inside. Around the circle are several handwritten letters and symbols: "B", "M", "L", "6", "9", "Z", "A", "B", "C".

Testo 5

DOMANDA N°	RISPOSTA ESATTA
41	B
42	C
43	C
44	B
45	B
46	B
47	A
48	C
49	D
50	D
51	C
52	C
53	D
54	A
55	C
56	A
57	B
58	C
59	A
60	A

Handwritten signatures and initials:
Bm
MLG
ZB
SC
AZ
27
A9
9

DOMANDA	RISPOSTA
61	B
62	B
63	D
64	B
65	D
66	C
67	B
68	A
69	C
70	A
71	D
72	C
73	B
74	A
75	D
76	C
77	C
78	D
79	C
80	A
81	D
82	A
83	D
84	C
85	B
86	C
87	B
88	A
89	C
90	A
91	D
92	C
93	D
94	B
95	B
96	A
97	D
98	B
99	C
100	C

