



BANCA D'ITALIA
EUROSISTEMA

Servizio Risorse umane

60 VICE ASSISTENTI
Bando del 20 aprile 2017

TESTO N. 1

IL FASCICOLO SI COMPONE DI DUE SEZIONI

PRIMA SEZIONE: relativa all'accertamento delle conoscenze nelle materie: elementi di diritto; elementi di economia; matematica e complementi di statistica
domande dal n° 1 al n° 60

SECONDA SEZIONE: relativa all'accertamento della conoscenza della lingua inglese
domande dal n° 61 al n° 100



SEZIONE PRIMA

Sezione I - 1

- 1 Con riferimento al regolamento e alla direttiva dell'Unione europea, quale tra le seguenti affermazioni è corretta?**
 - A La direttiva è immediatamente applicabile, il regolamento no
 - B Il regolamento e la direttiva sono entrambi fonti del diritto
 - C La direttiva è vincolante per i cittadini, il regolamento no
 - D Il regolamento deve essere adottato all'unanimità, la direttiva può essere adottata a maggioranza


- 2 Il 27 dicembre 1947 è la data:**
 - A di approvazione della Costituzione italiana
 - B di promulgazione della Costituzione italiana
 - C di entrata in vigore della Costituzione italiana
 - D del referendum di istituzione della Repubblica italiana

- 3 L'irretroattività delle sanzioni penali:**
 - A è sancita dalla Costituzione italiana
 - B è prevista solo nel codice penale
 - C è principio della costituzione materiale elaborato dalla giurisprudenza
 - D è espressamente prevista dalle disposizioni sulla legge in generale


- 4 Sulla base del diritto costituzionale, cosa si intende per forma di governo?**
 - A Si tratta dell'insieme di regole che determinano le modalità di nomina del Governo
 - B Si tratta dell'insieme di regole che determinano la distribuzione di poteri e funzioni fra gli organi costituzionali e ne disciplinano le relazioni reciproche
 - C Si tratta dell'insieme di regole che determinano le modalità di funzionamento del Governo
 - D Si tratta dell'insieme di regole che disciplinano i rapporti tra Governo e cittadini

- 5 Elementi comuni e fondamentali delle Autorità amministrative indipendenti sono:**
 - A la costituzione in forma di SpA e l'indipendenza
 - B la competenza tecnica e la neutralità
 - C il fine di lucro e l'imparzialità
 - D la scelta diretta dei vertici dal Capo dello Stato e l'autonomia dal potere politico


- 6 Ai sensi della L. 241/90 (Procedimento amministrativo e diritto di accesso), il Responsabile del procedimento:**
 - A può coincidere con l'organo competente all'adozione del provvedimento finale
 - B coincide sempre con l'organo competente all'adozione del provvedimento finale
 - C è sempre distinto dall'organo competente all'adozione del provvedimento finale
 - D coincide con l'organo competente all'adozione del provvedimento finale solo in caso di procedimento iniziato d'ufficio




- 7 **Ai sensi della L. 241/90 (Procedimento amministrativo e diritto di accesso), ove non sussistano ragioni di impedimento derivanti da particolari esigenze di celerità del procedimento, qualora da un provvedimento possa derivare un pregiudizio a soggetti individuati o facilmente individuabili, diversi dai suoi diretti destinatari, l'amministrazione è tenuta a fornire loro la notizia:**
- A della conclusione del procedimento
 - B dell'avvio del procedimento
 - C della conclusione della fase istruttoria
 - D della convocazione della conferenza di servizi decisoria
- 8 **Ai sensi della L. 241/90 (Procedimento amministrativo e diritto di accesso), il provvedimento amministrativo viziato da eccesso di potere è:**
- A irricevibile
 - B nullo
 - C annullabile
 - D inesistente
- 9 **L'autorizzazione è un provvedimento della Pubblica Amministrazione volto a:**
- A ampliare la sfera giuridica del destinatario attribuendogli il diritto di svolgere un'attività riservata alla Pubblica Amministrazione
 - B consentire l'esercizio di un'attività o di un potere di cui è titolare il richiedente
 - C trasferire un diritto reale nella sfera giuridica di un privato
 - D costituire un rapporto contrattuale tra cittadino e Pubblica Amministrazione
- 10 **Ai sensi del Trattato sul Funzionamento dell'Unione europea, l'Eurosistema è costituito:**
- A dalla Banca centrale europea e dalle banche centrali nazionali dei paesi che hanno adottato l'euro
 - B dalla Banca centrale europea e dalle banche centrali nazionali dell'Unione europea
 - C dalla Banca centrale europea, dalle banche centrali nazionali dell'Unione europea e dall'Autorità bancaria europea (EBA)
 - D dalla Banca centrale europea, dalle banche centrali nazionali dei paesi che hanno adottato l'euro e dall'Autorità bancaria europea (EBA)
- 11 **Ai sensi del codice civile, il minore è di diritto emancipato:**
- A con il matrimonio
 - B con provvedimento del giudice tutelare
 - C con il compimento del sedicesimo anno di età
 - D con la nomina del curatore




- 17 **Ai sensi del codice civile, nella vendita a rate con riserva della proprietà, il compratore acquista la proprietà della cosa:**
- A col consenso delle parti legittimamente manifestato, salvo il diritto di riscatto del venditore
 - B col pagamento dell'ultima rata di prezzo, salvo il diritto di riscatto del venditore
 - C col consenso delle parti legittimamente manifestato, ma assume i rischi dal momento della consegna
 - D col pagamento dell'ultima rata di prezzo, ma assume i rischi dal momento della consegna
- 18 **Ai sensi del codice civile, l'atto costitutivo della società per azioni deve essere redatto:**
- A per atto pubblico
 - B per scrittura privata autenticata
 - C per atto pubblico informatico
 - D per scrittura privata
- 19 **Ai sensi del codice civile, i soci accomandatari della società in accomandita per azioni:**
- A possono essere nominati amministratori dall'assemblea ordinaria
 - B non possono essere nominati amministratori
 - C devono acquisire la qualità di socio accomandante per essere nominati amministratori
 - D sono di diritto amministratori
- 20 **Ai sensi del codice civile, sono definite collegate le società:**
- A in cui un'altra società dispone di voti sufficienti per esercitare un'influenza dominante nell'assemblea ordinaria
 - B in cui un'altra società dispone della maggioranza dei voti esercitabili nell'assemblea ordinaria
 - C in cui un'altra società dispone della maggioranza dei voti esercitabili nell'assemblea straordinaria
 - D sulle quali un'altra società esercita un'influenza notevole
- 21 **Un'impresa concorrenziale che ha il costo medio uguale al prezzo di vendita:**
- A realizza un extraprofitto
 - B realizza un profitto normale
 - C realizza una perdita
 - D non riesce a collocare i suoi beni sul mercato
- 22 **Un bene A si definisce succedaneo o surrogato del bene B:**
- A se all'aumento del prezzo di B si riduce la quantità domandata di A
 - B se all'aumento del prezzo di B aumenta la quantità domandata di A
 - C se all'aumento del prezzo di B il prezzo e la quantità domandata di A non variano
 - D se ogni variazione del prezzo di B comporta la medesima variazione del prezzo di A



- 23 Il monopsonio è un mercato in cui:**
- A la domanda del bene è concentrata in un unico compratore
 - B la domanda del bene è equiripartita tra un numero elevato di compratori
 - C l'offerta del bene è concentrata in un unico produttore
 - D l'offerta del bene è concentrata in un numero ridotto di produttori
- 24 La concorrenza monopolistica si differenzia dalla concorrenza perfetta:**
- A per l'offerta di beni differenziati
 - B per la presenza di pochi venditori sul mercato
 - C per la presenza di pochi acquirenti sul mercato
 - D per la presenza di barriere all'entrata
- 25 Quale tra le seguenti non è una grandezza di flusso?**
- A PIL
 - B Debito pubblico
 - C Consumi
 - D Investimenti
- 26 Dati un reddito di 300 miliardi di euro e una propensione marginale al consumo pari a 0,8, sapendo che i consumi fissi (che non dipendono dal reddito) sono pari a 50 miliardi di euro, a quanti miliardi di euro ammonta il risparmio?**
- A 60
 - B 10
 - C 20
 - D 24
- 27 Nell'equazione di Fisher, indicata come $M*V=P*Q$, quale tra le seguenti variabili non è presente?**
- A La quantità di moneta
 - B La quantità di beni e servizi prodotta
 - C Il livello dei prezzi
 - D La velocità di cambiamento delle preferenze
- 28 Nell'anno t il PIL nominale è pari a 200 miliardi; l'anno successivo (t+1) il PIL nominale cresce del 15% e il PIL reale ai prezzi dell'anno t è pari a 210 miliardi. Il deflatore nell'anno t+1, arrotondato alla prima cifra decimale, è pari a:**
- A 0,1
 - B 1,1
 - C 1,3
 - D 0,9




- 29 **Un'imposta ha carattere di progressività quando:**
- A l'aliquota media coincide con l'aliquota marginale
 - B l'aliquota media è superiore all'aliquota marginale
 - C l'aliquota media è inferiore all'aliquota marginale
 - D l'aliquota media può essere sia superiore che inferiore all'aliquota marginale
- 30 **La teoria del "sacrificio uguale" formulata da John Stuart Mill prevede che l'eguaglianza tributaria si raggiunga con:**
- A un'imposta indiretta
 - B un'imposta uguale per tutti
 - C un'imposta proporzionale
 - D un'imposta progressiva
- 31 **Una struttura organizzativa che abbina elementi dell'organizzazione divisionale a elementi dell'organizzazione funzionale è detta:**
- A organizzazione polifunzionale
 - B organizzazione multifunzionale
 - C organizzazione multidivisionale
 - D organizzazione a matrice
- 32 **La scrittura di integrazione di un componente positivo di reddito a manifestazione finanziaria futura comporta la rilevazione di:**
- A un risconto passivo
 - B un rateo passivo
 - C un risconto attivo
 - D un rateo attivo
- 33 **La Alfa srl redige il bilancio d'esercizio in forma abbreviata secondo le disposizioni del codice civile (articolo 2435 bis). Pertanto, in merito al Rendiconto finanziario:**
- A è esonerata dall'obbligo di redigerlo
 - B deve redigerlo in forma semplificata
 - C deve redigerlo se la variazione delle disponibilità liquide nell'esercizio supera il valore del Patrimonio netto
 - D deve redigerlo se dallo Stato patrimoniale risulta che il Patrimonio netto è inferiore ai Debiti



- 34 Nell'ambito delle scritture di assestamento la società Alfa deve rilevare un risconto attivo su un fitto passivo e gli ammortamenti relativi alle immobilizzazioni iscritte nella voce di bilancio "impianti e macchinari"; per effetto delle registrazioni contabili secondo il metodo della partita doppia:**
- A** i conti "ammortamento impianti e macchinari" e "fitti passivi" saranno addebitati; i conti "risconti attivi su fitti" e "fondo ammortamento impianti e macchinari" saranno accreditati
 - B** i conti "ammortamento impianti e macchinari" e "risconti attivi su fitti" saranno addebitati; i conti "fondo ammortamento impianti e macchinari" e "fitti passivi" saranno accreditati
 - C** i conti "ammortamento impianti e macchinari" e "risconti attivi su fitti" saranno accreditati; i conti "fondo ammortamento impianti e macchinari" e "fitti passivi" saranno addebitati
 - D** i conti "ammortamento impianti e macchinari" e "fondo ammortamento impianti e macchinari" saranno accreditati; i conti "risconti attivi su fitti" e "fitti passivi" saranno addebitati
- 35 Al 31/12/2016 il conto economico riclassificato "al valore aggiunto" di un'impresa commerciale registra un reddito operativo (EBIT) pari a 1.000; dati gli ammortamenti pari a 100, le svalutazioni crediti pari a 200, gli accantonamenti a fondi rischi per 200 e gli oneri finanziari pari a 200, il margine operativo lordo (EBITDA) risulta pari a:**
- A** 1.300
 - B** 500
 - C** 1.500
 - D** 1.700
- 36 Nella configurazione di "Conto economico a ricavi e costo del venduto" la differenza tra "Ricavi netti di vendita" e "Costo del venduto" individua:**
- A** l'Utile netto di bilancio
 - B** il Reddito operativo (EBIT)
 - C** il Margine lordo industriale
 - D** il Valore aggiunto
- 37 In sede di analisi degli scostamenti in un'azienda mono-prodotto, una differenza riscontrata tra costi effettivi e costi standard (o programmati) può dipendere:**
- A** da variazioni nei rendimenti dei fattori produttivi, variazioni nel volume della produzione e variazioni nei prezzi di vendita
 - B** esclusivamente da variazioni nei rendimenti dei fattori produttivi e variazioni nei prezzi dei fattori produttivi
 - C** esclusivamente da variazioni nei prezzi dei fattori produttivi e variazioni nel volume di produzione
 - D** da variazioni nei rendimenti dei fattori produttivi, variazioni nei prezzi dei fattori produttivi e variazioni nel volume della produzione



- 38 Nell'ambito della contabilità gestionale a costi pieni (full costing), il costo industriale di un prodotto è pari alla somma tra:**
- A il costo primo e la quota dei costi generali di produzione imputati indirettamente
 - B il costo delle materie prime e il costo della manodopera diretta
 - C il costo delle materie prime e i costi variabili diretti
 - D i costi fissi diretti e i costi figurativi diretti
- 39 La commissione di istruttoria veloce applicata dalle banche può essere prevista:**
- A per l'apertura urgente di conti di corrispondenza finalizzati al regolamento di pagamenti indifferibili
 - B per l'apertura urgente di conti di corrispondenza finalizzati al regolamento di transazioni in valuta
 - C dai contratti di conto corrente per l'acquisto senza preavviso di prodotti finanziari
 - D dai contratti di conto corrente in caso di sconfinamenti in assenza di affidamento
- 40 In data lunedì 8 gennaio 2018 un conto corrente presenta saldi contabile, liquido e disponibile a credito pari a 1.000; il medesimo giorno viene versato e contestualmente accreditato, salvo buon fine, un assegno bancario di importo pari a 500. Ipotizzando che i giorni di valuta siano 2, i giorni di disponibilità 4 e che l'assegno venga regolarmente incassato, quale delle seguenti affermazioni è corretta?**
- A Il giorno giovedì 11 gennaio 2018 il saldo contabile e il saldo disponibile sono entrambi pari a 1.500
 - B Il giorno giovedì 11 gennaio 2018 il saldo contabile è pari a 1.500 e il saldo liquido è pari a 1.000
 - C Il giorno giovedì 11 gennaio 2018 il saldo contabile e il saldo liquido sono entrambi pari a 1.500
 - D Il giorno venerdì 12 gennaio 2018 il saldo liquido è pari a 1.000 e il saldo disponibile è pari a 1.500



- 41 Dati due numeri reali a e b , con a diverso da $\pm b$, individuare con quale delle seguenti espressioni si può rappresentare il rapporto tra il triplo della loro somma e la differenza dei loro quadrati:

A $\frac{(a+b)^3}{a^2-b^2}$

B $\frac{3(a+b)}{2a-2b}$

C $\frac{3a+3b}{(a-b)(a+b)}$

D $\frac{3a+3b}{(a-b)^2}$

- 42 Per quali valori di x reali non negativi è soddisfatta la disuguaglianza $2\sqrt{x} < 2x$?

A $0 < x < 1$

B $x > \frac{1}{2}$

C $0 < x < \frac{1}{2}$

D $x > 1$

- 43 Si indichi la definizione corretta di parabola:

A luogo geometrico dei punti del piano per i quali la somma delle distanze da due punti fissi (fuochi) è costante

B luogo geometrico dei punti del piano per i quali la differenza delle distanze da due punti fissi (fuochi) è costante

C luogo geometrico dei punti del piano equidistanti da una retta (direttrice) e da un punto fisso (fuoco)

D luogo geometrico dei punti del piano equidistanti da un punto fisso (fuoco)

- 44 Si individuino i parametri a , b , c della parabola $y = ax^2 + bx + c$ tali che ad essa appartengano i punti $(0; 0)$, $(1; 1)$, $(2; 12)$:

A $a = 5; b = 2; c = 0$


B $a = \frac{2}{3}; b = \frac{1}{3}; c = 0$

C $a = 5; b = -4; c = 0$


D $a = \frac{11}{2}; b = \frac{11}{2}; c = 1$



- 45 Si individui il vertice della parabola $y = -x^2 - 2x + 5$:
- A (-1; 6)
B (6; -1)
C (-1; -6)
D (1; 2)
- 46 Data la successione $\left\{\frac{n^2}{2^n}\right\}$ se ne indichi il limite per $n \rightarrow +\infty$:
- A 0
B $+\infty$
C 1
D $\frac{1}{2}$
- 47 Data la funzione $y = \frac{12}{x}$ si indichi l'equazione della retta tangente nel punto (2; 6):
- A $y = 18 - 6x$
B $y = 6 - 3x$
C $y = 12 - 3x$
D $y = -6 + 6x$
- 48 Si indichi il valore assunto dall'integrale $\int_1^e \frac{1}{x} dx$:
- A e
B 1
C $\frac{1}{e}$
D $+\infty$
- 49 Sia N l'insieme dei numeri interi positivi. Dati i due insiemi $A = \{n \in \mathbb{N} \mid 2 < n \leq 9\}$ e $B = \{n \in \mathbb{N} \mid n \text{ è divisore di } 36\}$, determinare l'intersezione di A e B:
- A $A \cap B = \{2, 3, 4, 9\}$
B $A \cap B = \{3, 4, 6, 8, 9\}$
C $A \cap B = \{3, 4, 6, 9\}$
D $A \cap B = \{2, 3, 4, 6\}$



- 50 Si indichi il valore assunto dalla funzione $\tan(\theta)$ per $\theta = \frac{\pi}{4}$:
- A 0
 - B 1
 - C - 1
 - D $+\infty$
- 51 Indicata con M la media aritmetica di una serie di valori x_1, x_2, \dots, x_n , valutare la seguente affermazione:
 “sommando a ciascun valore della serie x_i una costante c arbitraria, la media aritmetica dei nuovi valori è $M+c$ ”
- A l'affermazione è falsa
 - B l'affermazione è vera
 - C per poter valutare l'affermazione occorre conoscere il valore della costante c
 - D per poter valutare l'affermazione occorre conoscere il valore della media M
- 52 Per vincere un premio un concorrente deve sostenere tre prove (nell'ordine: un test, un compito scritto e una prova orale) e ottenere un punteggio superiore a 30 punti. La valutazione finale viene effettuata calcolando la media aritmetica ponderata dei punteggi ottenuti nelle tre prove attribuendo ad esse, in ordine, un peso pari a 1, 2 e 3.
- Un concorrente che ha ottenuto 40 punti nel test, 35 punti nel compito scritto e 22 punti nella prova orale:
- A ha vinto il premio perché il punteggio finale è tra 30 e 32 punti
 - B non ha vinto il premio perché il punteggio finale è tra 28 e 30 punti
 - C non ha vinto il premio perché il punteggio finale è inferiore a 28 punti
 - D ha vinto il premio perché il punteggio finale è superiore a 32 punti
- 53 Il coefficiente di variazione di una serie di valori è:
- A il rapporto tra numero massimo e numero minimo
 - B il rapporto tra la media aritmetica e la deviazione standard
 - C il rapporto tra la deviazione standard e la media aritmetica
 - D il rapporto tra la deviazione standard e la media geometrica
- 54 L'indice di concentrazione R è calcolato come:
- A rapporto tra l'area di concentrazione e l'area di massima concentrazione
 - B rapporto tra l'area di massima concentrazione e l'area di concentrazione
 - C rapporto tra l'area di concentrazione e la radice quadrata dell'area di massima di concentrazione
 - D rapporto tra l'area di concentrazione e la metà dell'area di massima concentrazione



- 55 Il quoziente di natalità in Italia nel 2016 era pari a 7,8 per mille. Di che tipo di rapporto statistico si tratta?
- A Un rapporto statistico di coesistenza
 - B Un rapporto statistico di composizione
 - C Un rapporto statistico di densità
 - D Un rapporto statistico di derivazione
- 56 Sia X una serie di valori x_1, x_2, \dots, x_n , con varianza pari a 9. Se consideriamo la serie di valori $Z = 2X$ quale è la deviazione standard di Z ?
- A 18
 - B 36
 - C 6
 - D 9
- 57 Estrahendo a caso una carta da un mazzo non truccato di 40 carte napoletane, quale è la probabilità che la carta estratta sia un asso o una carta di denari?
- A 0,300
 - B 0,325
 - C 0,350
 - D 0,375
- 58 Lanciando contemporaneamente 3 monete non truccate quale è la probabilità che "testa" esca solamente una volta?
- A 0,500
 - B 0,250
 - C 0,375
 - D 0,333
- 59 Calcolare il numero di anagrammi (anche privi di senso compiuto) che possono essere realizzati con la parola PIANTE che inizino con la lettera T.
- A 60
 - B 120
 - C 125
 - D 100



60 Un ragazzo ha memorizzato 6 canzoni su un lettore MP3. Quante possibili *play-list* non ordinate di 4 canzoni diverse potrà comporre a partire dalle 6 canzoni registrate?

A 120

B 15

C 20

D 24



61. Complete the sentence with the correct answer.

Can you tell me _____?

- A. the way is to the city centre
- B. where is the city centre
- C. where the city centre is
- D. which way the city centre

62. Complete the sentence with the correct answer.

Tom has lived in this town _____ three years.

- A. since
- B. from
- C. until
- D. for

63. Complete the sentence with the correct answer.

Everybody _____ wear a seat belt, also in the rear of the car.

- A. must to
- B. would
- C. should've
- D. has to


64. Complete the sentence with the correct answer.

I _____ in this department for over 10 years now; it's time to make a change!

- A. am working
- B. have been working
- C. had been working
- D. was working

65. First read the passage; then answer the question.

The theory of plate tectonics describes the motions of the lithosphere, the rigid outer layer of the Earth. It concerns the fact that periodic reversals of the Earth's magnetic field are recorded in the ocean's crust. As magma rises under the mid-ocean ridge, ferromagnetic minerals in the magma become magnetized in the direction of the geomagnetic field. When the magma cools and solidifies, the direction and the polarity of the field are preserved in the magnetized volcanic rock. Reversals of the field give rise to a series of magnetic stripes running parallel to the axis of the rift. The oceanic crust thus serves as a magnetic tape recording of the history of the geomagnetic field that can be dated independently, and the width of the stripes indicates the rate of the sea-floor spreading.



What happens to the ferromagnetic minerals as the magma rises?

- A. They don't change.
- B. They become smaller.
- C. They move away from the geomagnetic field.
- D. They become magnetic.

66. Complete the sentence with the correct answer.

Do you think the internet is not _____ place to make friends?

- A. a safe
- B. safest
- C. the securer
- D. safe

67. Complete the sentence with the correct answer.

He said that most problems _____ by the opposition of dissatisfied workers.

- A. caused
- B. were being caused
- C. was caused
- D. were causing

68. First read the email; then complete the sentence with the correct answer.

TO: Mr Markham
FROM: Graham Hall

I regret to say that we have not yet received payment for the goods that we delivered to you in January, despite the agreement being payment within 30 working days. This is regrettably causing severe cashflow problems, and unless you pay us immediately, we will inevitably have to stop supplying you with the goods you require, and we will not be in a position to offer you our usual discounts in the future.


Graham intends to:

- A. interrupt the cashflow.
- B. supply the goods in the future.
- C. suspend the supply of goods.
- D. take legal action.

69. First read the notice; then choose the correct sentence.

You are hereby notified of your right to avoid this eviction, by payment, prior to the expiration of this notice, of all the arrears, plus one hundred pounds (£100.00), in damages.

- A. You cannot leave the property, unless you pay arrears and damages.
- B. You must pay arrears, or avoid eviction from the property.
- C. You can pay one hundred pounds to stay in the property.
- D. You should pay all arrears, plus damages to stay in the property.



70. First read the passage; then choose the correct answer.

Jamie Hill is a rising star in downhill skiing. He has raced since he was eight years old and has had both successes and disappointments in that time. His most frightening moment so far was during a recent national championship: he lost his balance in the last part of the race, and he finished last. This was not the only time he'd been unfortunate. In a previous race, it had been snowing heavily, and he fell and broke his leg just minutes after the start of the race.

What happened at the beginning of one of Jamie's races?

- A. He lost his balance and finished last.
- B. The weather got really bad.
- C. He had an accident.
- D. There was a problem with his skis.

71. Complete the sentence with the correct answer.

When I lived in London, I _____ eat out almost every evening.

- A. used to
- B. would have
- C. got used to
- D. was

72. Complete the sentence with the correct answer.

_____ they confirm the order, we can get production up and running.

- A. As soon as
- B. Until
- C. Since
- D. Unless

73. Complete the sentence with the correct answer.


I've not been _____ with my boss recently, and it's starting to worry me.

- A. getting through
- B. getting over
- C. getting in
- D. getting on

74. Complete the sentence with the correct answer.

The flight was cancelled, so we _____ our daughter in the end.

- A. couldn't visit
- B. visiting
- C. were not visiting
- D. visit



75. Complete the sentence with the correct answer.

The new minister promised to _____ the streets, but they're just as dirty as last year.

- A. clean over
- B. clean up
- C. clean in
- D. clean about

76. Complete the sentence with the correct answer.

I _____ bothered organizing the event; the turnout was dreadful.

- A. wouldn't
- B. shouldn't have
- C. ought not to
- D. shouldn't

77. Complete the sentence with the correct answer.

They _____ to help me with the slides for the presentation.


- A. suggested
- B. recommended
- C. offered
- D. provided

78. First read the passage; then complete the sentence with the correct answer.

There have been hundreds of sightings of unidentified flying objects (UFOs) reported all over the world since the late 1940s. Some of the first reports were of long cigar-shaped, rocket-like craft sighted over Sweden in 1946. People in other countries have reported saucer-shaped as well as cigar-shaped UFOs, with and without rocket flames. They have also reported hearing throbbing or rushing sounds. Indeed, as one highly respected authority has said, "it is probably significant that UFO reports have been made in virtually every country in the world and that reports from various countries bear striking similarities to one another". We may call this mass hysteria, but the facts cannot be disputed, even though many of the reports of UFO sightings have indeed proven to be false.

The author says UFO sightings:

- A. are more than likely to be true.
- B. happen mainly in European countries.
- C. often relate to the shape of the object.
- D. have always been proven to be mistaken.



79. First read the passage; then answer the question.

Why do you love certain types of music and hate others? It may come down to the way your brain processes information. Psychologists already know that music preferences are linked to personality, but a new study has found that your taste in music is also associated with the way you think. It discovered that people who are high in empathy prefer 'mellow' music, including R&B/soul, adult contemporary and soft rock, while those with more analytical minds tend to prefer more 'intense' music, such as punk, heavy metal, and hard rock. Why? The researchers hypothesize that people seek out music that reflects and reinforces their own mental states. "People's musical choices tend to be a mirror of who they are", Greenberg said. A next step for the research would be to discover whether music with emotional depth can actually increase empathy. If this is true, therapies using music to boost empathy could be devised. In particular, these could help individuals with autism.

Where do our musical tastes come from, according to the study?

- A. They are only determined by our personality.
- B. They reflect our levels of intelligence.
- C. They mostly come from our parents.
- D. They are representative of our mental states.

80. First read the passage; then complete the sentence with the correct answer.

Politicians often claim that their aim is to create a fairer society. The goal of achieving absolute equality has long been abandoned, but many claim that a meritocratic society is possible by establishing institutions that ensure that people get the opportunities to better themselves and are rewarded on the basis of their efforts and abilities. Thus, the factor that determines people's success in life is their own talent, not an accident of birth or whether someone has cleared a pathway to success by doing them the favour of recommending that they get a particular position in a company or institution, whether they have the necessary talent to fulfil that position or not.


The writer claims that society would be fairer if:

- A. we had not abandoned the idea that everyone is equal.
- B. people's success were based more on who they had connections with.
- C. people were allowed to get jobs and opportunities according to their merits in contrast to other factors.
- D. success were the only criterion by which we were supposed to judge people.

81. Complete the sentence with the correct answer.

In reality, the management will really have to _____ the staffing problems sooner or later.

- A. tackle
- B. nurture
- C. clear out
- D. face up



82. Complete the sentence with the correct answer.

Where's the boss? I _____ him all day!

- A. didn't see him
- B. haven't been seeing
- C. haven't seen
- D. don't see

83. Complete the sentence with the correct answer.

They couldn't come to an agreement _____ of their differences.

- A. due
- B. on account
- C. owing
- D. since

84. Complete the sentence with the correct answer.

_____ for his bravery, many more people would have died.

- A. Were it not
- B. Regardless
- C. Especially
- D. Without

85. Complete the sentence with the correct answer.

We'll never find out what _____ if she'd arrived in time.

- A. will have happened
- B. can have happened
- C. should have happened
- D. might have happened

86. Complete the sentence with the correct answer.


The ship *Andrea Doria* was lost in a _____.

- A. accident
- B. shipwreck
- C. wreckage
- D. sinking

87. Complete the sentence with the correct answer.

I must apologise for my delayed _____ to your letter.

- A. in replying
- B. reply
- C. replying
- D. on replying



88. First read the passage; then complete the sentence with the correct answer.

Giving presentations brings a lump in the throat to many people. Apart from the fear of speaking in public, there is always the danger that your PowerPoint will suddenly be erased by the click of a mouse or that the taxi driver in a foreign country will take you into a rush hour traffic jam. Personally, I'm never glad when it's over. In fact, nothing could be further from the truth. I see presentations as an opportunity to develop my own skills, and, provided that you have sufficient time to prepare, they can be extremely enjoyable.

The writer's main point is that:


- A. presentations are not to be feared.
- B. people giving presentations should be as truthful as they can.
- C. things like PowerPoint failures are learning experiences.
- D. he is just as relieved as anyone when his presentation is over.

89. First read the passage; then answer the question.

I'd say I made the decision to become a farmer gradually. Volunteering on the local farm where I grew up and working on several farms in Mexico while travelling were both important factors. It became clear to me that my happiness depended on doing work that was tangible and grounded, where you could see the fruits of your labour at the end of a hard day's work. I wanted to have a positive impact on the environment and my local community, and sustainable, direct-market farming was the way I came up with to do both at once. Farming is full of surprises, but perhaps one of the best is the sense I get that everybody is secretly (or openly) jealous of their farmer. Even people who feel uncomfortable at the sight of dirt on their shoes seem to feel the need to produce food from the land. The farming life seems to attract a surprising number and range of people. I find this refreshing and particularly satisfying to observe in the variety of people who come out to the farm to volunteer.

Which of the following statements about the farmer is true?

- A. She thinks everyone would like to be a farmer.
- B. She thinks farmers are all quite similar people.
- C. She is currently planning to find another profession.
- D. She always knew she would work on a farm.

**90. First read the passage; then answer the question.**

I recently read an article regarding teens and summer jobs. It said that 'since 2000, the share of 16- to 19-year-olds who are working has fallen dramatically by 40 percent'. This makes a lot of sense, since I could spend all day explaining to a manager how I like interacting with people and I could learn something quickly and put in all the effort, but the moment he looks me in the eye and asks "do you have any experience?" I know I've already lost. Last year, I spent almost a whole week going around and handing out a resume to find a job. I got stuck in that situation that I hear people joke about all the time, which is, "How can I get experience to get a job if no job will accept me since I don't have experience?" I searched around for a while until I was informed of a coffee shop which had hired teenagers occasionally. The week after was a week of calling, trying to get an interview, asking if I had got the job, and just a lot of reminders to get the

manager's attention. It wasn't his fault; he's got bigger priorities than a teenager trying to get a summer job, but eventually he told me I could start next week.

What does the writer say is difficult about finding a summer job?

- A. Finding a job which pays enough money.
- B. Finding a job which offers interesting work.
- C. Finding a job when you don't have experience.
- D. Finding a job with a good manager.

91. Complete the sentence with the correct answer.

I was very happy _____ in Mexico.

- A. to living
- B. living
- C. to lived
- D. live

92. Complete the sentence with the correct answer.

The regulations must be created _____ the prevailing European laws.

- A. with respect of
- B. in compliance with
- C. according for
- D. in preparation to

93. Complete the sentence with the correct answer.


After the match was over, the manager _____ the goalkeeper's performance.

- A. loaded
- B. esteemed
- C. praised
- D. gratified

94. Complete the sentence with the correct answer.

Thousands of people _____ in temporary shelters since the earthquake.

- A. have been staying
- B. stay
- C. are to staying
- D. were staying



95. Complete the sentence with the correct answer.

You probably wouldn't have had an accident if you _____ so tired.

- A. wasn't
- B. haven't been
- C. wouldn't been
- D. hadn't been

96. Complete the sentence with the correct answer.

When she saw the beautiful printed fabric in the catalogue, she knew it was exactly the kind of material she _____.

- A. looked for
- B. had been looking for
- C. looks for
- D. has looked for

97. Complete the sentence with the correct answer.

Our teacher gets very angry when we don't do what she says. She's very _____!

- A. brittle
- B. harsh
- C. severe
- D. strict

98. Complete the sentence with the correct answer.

My uncle stopped work when he was 65 years old. Now he's a _____.

- A. pensioner
- B. pensioned
- C. retiree
- D. retired

99. Complete the sentence with the correct answer.


The financial _____ was so bleak that they decided to tear up the contract!

- A. preview
- B. plans
- C. view
- D. forecast

100. Complete the sentence with the correct answer.

If we had spent all night going over the papers, we _____ the deadline last Wednesday.

- A. will have made
- B. might have made
- C. may have made
- D. should have made



Testo 1

DOMANDA N°	RISPOSTA ESATTA
41	C
42	D
43	C
44	C
45	A
46	A
47	C
48	B
49	C
50	B
51	B
52	B
53	C
54	A
55	D
56	C
57	B
58	C
59	B
60	B

Handwritten notes:
Ba
M Lg
B
B
A2
9

DOMANDA	RISPOSTA
61	C
62	D
63	D
64	B
65	D
66	A
67	B
68	C
69	D
70	C
71	A
72	A
73	D
74	A
75	B
76	B
77	C
78	C
79	D
80	C
81	A
82	C
83	B
84	A
85	D
86	B
87	B
88	A
89	A
90	C
91	B
92	B
93	C
94	A
95	D
96	B
97	D
98	A
99	D
100	B

